

**Zeitschrift:** Bündner Schulblatt = Bollettino scolastico grigione = Fegl scolastic grischun  
**Herausgeber:** Lehrpersonen Graubünden  
**Band:** 38 (1978)  
**Heft:** 5

**Artikel:** "Kennst du Chur?" : Chur, Stadt im Passland  
**Autor:** [s.n.]  
**DOI:** <https://doi.org/10.5169/seals-356587>

### **Nutzungsbedingungen**

Die ETH-Bibliothek ist die Anbieterin der digitalisierten Zeitschriften. Sie besitzt keine Urheberrechte an den Zeitschriften und ist nicht verantwortlich für deren Inhalte. Die Rechte liegen in der Regel bei den Herausgebern beziehungsweise den externen Rechteinhabern. [Siehe Rechtliche Hinweise.](#)

### **Conditions d'utilisation**

L'ETH Library est le fournisseur des revues numérisées. Elle ne détient aucun droit d'auteur sur les revues et n'est pas responsable de leur contenu. En règle générale, les droits sont détenus par les éditeurs ou les détenteurs de droits externes. [Voir Informations légales.](#)

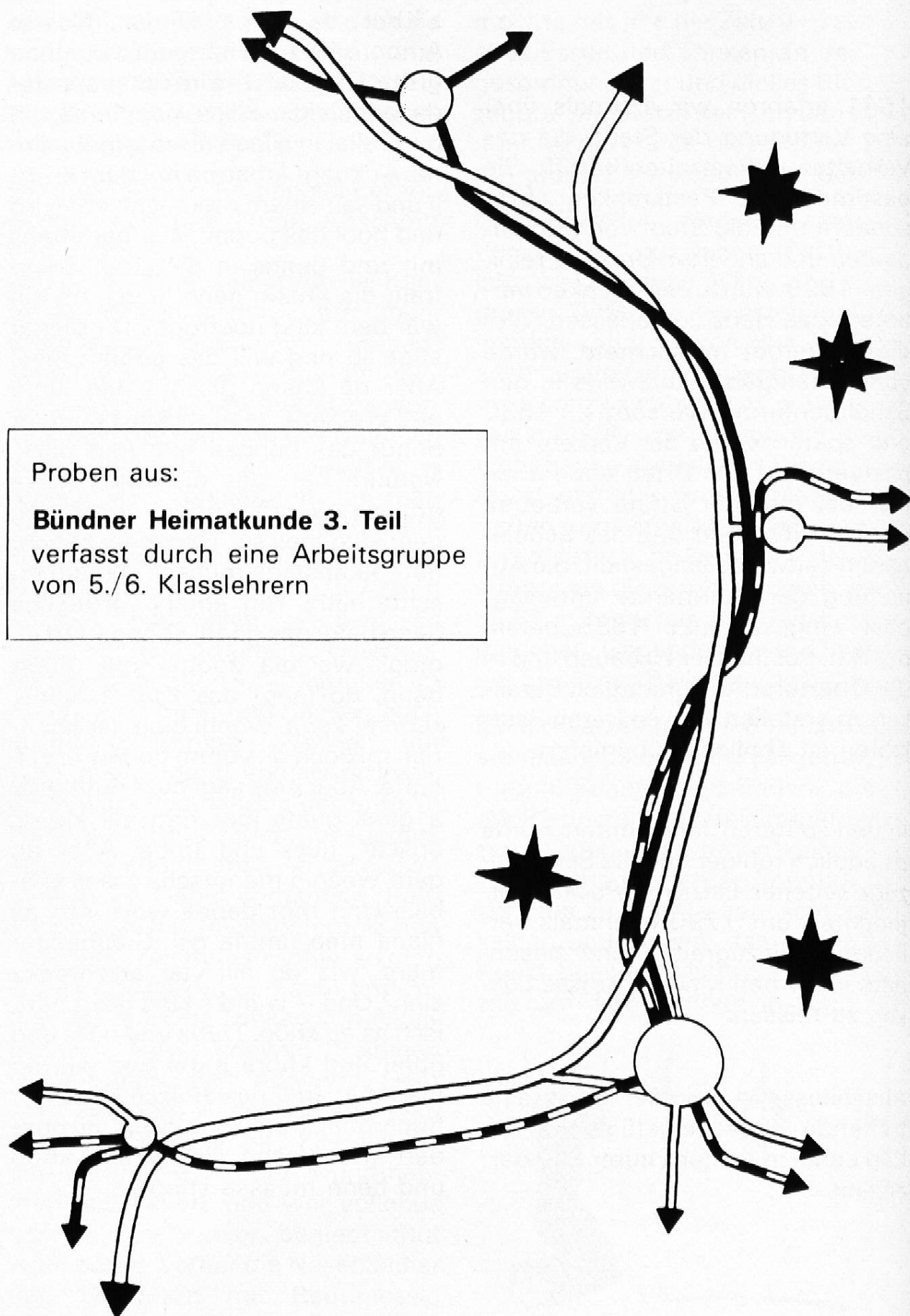
### **Terms of use**

The ETH Library is the provider of the digitised journals. It does not own any copyrights to the journals and is not responsible for their content. The rights usually lie with the publishers or the external rights holders. [See Legal notice.](#)

**Download PDF:** 16.03.2025

**ETH-Bibliothek Zürich, E-Periodica, <https://www.e-periodica.ch>**

# Chur, Stadt im Passland



## Arbeitsblatt «Chur, Stadt im Passland»

1. Schreibe die unten angeführten Ortsnamen auf farbiges Papier, schneide sie einzeln aus und ergänze damit die Verkehrskarte!
2. Stelle die Verkehrskarte als Bodenkarte dar!
3. Präge dir die Karte ein, zeichne und beschrifte sie aus dem Gedächtnis!
4. Suche aus einem Fahrplan die Anzahl der Züge und Postautos, die täglich in Chur eintreffen und Chur verlassen!
5. Zeichne und beschreibe den Weg von deinem Wohnort nach Chur!

Ortsnamen für die Verkehrskarte:

nach Arosa

Calanda

Chur

nach Davos

Falknis

nach Flims

Hochwang

nach Ilanz/Disentis

Landquart

nach Lenzerheide/Julier

Reichenau

nach St. Gallen

Sargans

nach Thusis/Engadin



nach Thusis/San Bernardino

Vilan


nach Zürich

## Arbeitsblatt «Chur – Stadtteile»

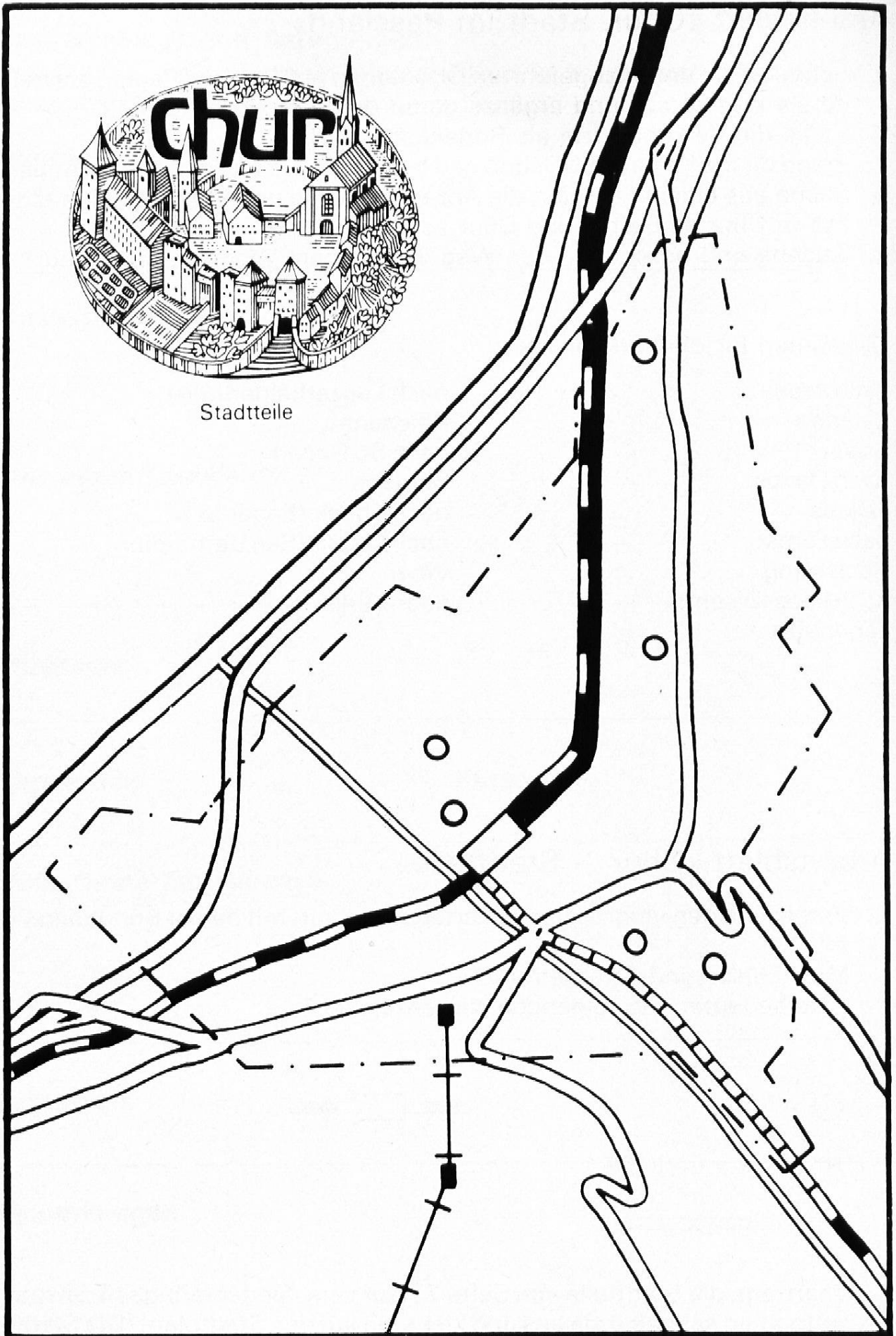
1. Vergleiche den vergrösserten Kartenausschnitt mit deiner Bündnerkarte!  
Male Flüsse und Strassen aus!
2. Was bedeuten die folgenden Kartenzeichen?



3. Übertrage die Stadtteile von Seite 27 auf verschiedenfarbiges Transparentpapier, schneide sie aus und klebe sie auf den Stadtplan! (Die Stadtgrenze ist gestrichelt eingezeichnet)
4. Vergrössere das Signet von Chur und gestalte damit ein Titelblatt!

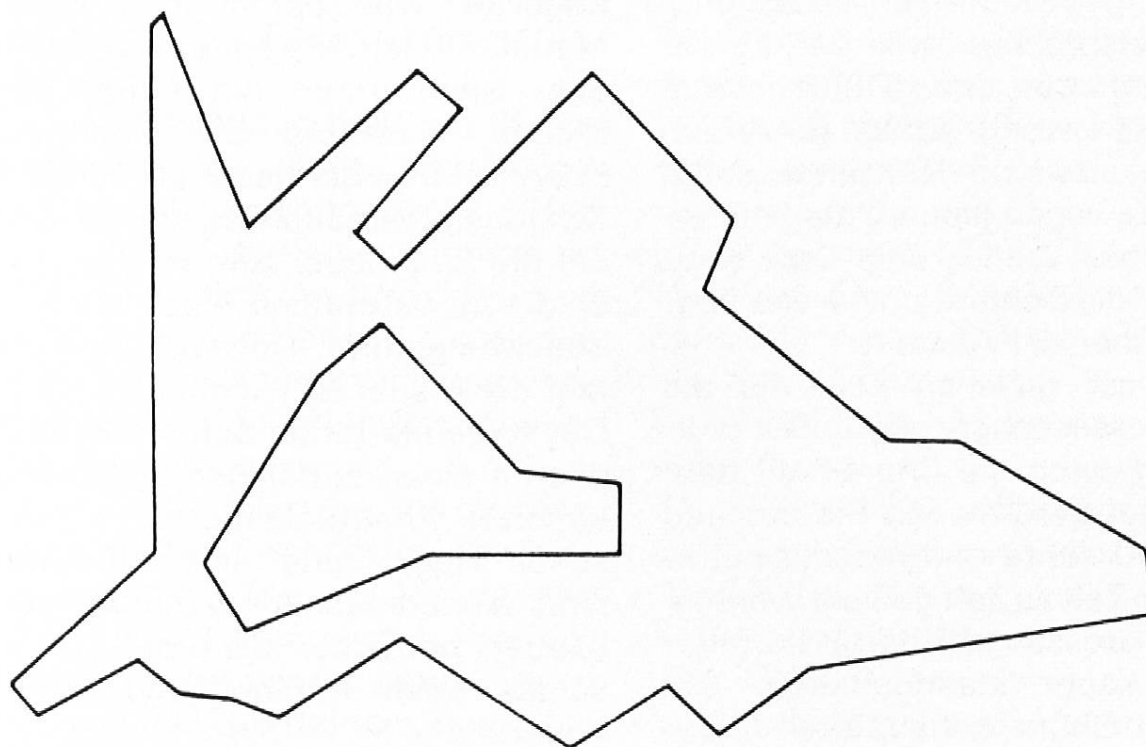


Stadtteile

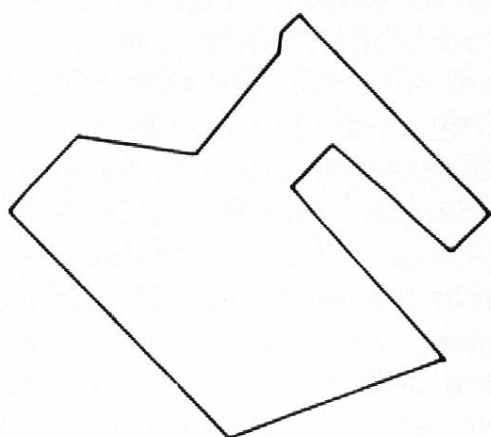


# Chur – Stadtteile (zu Seite 314)

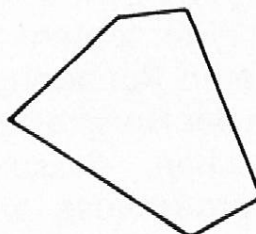
Vorwiegend Wohngebiet



Vorwiegend Industriegebiet



Altstadt



City

