

Zeitschrift: Schweizer Soldat : Monatszeitschrift für Armee und Kader mit FHD-Zeitung
Herausgeber: Verlagsgenossenschaft Schweizer Soldat
Band: 17 (1941-1942)
Heft: 35

Artikel: Association Suisse de Sous-officiers
Autor: [s.n.]
DOI: <https://doi.org/10.5169/seals-712657>

Nutzungsbedingungen

Die ETH-Bibliothek ist die Anbieterin der digitalisierten Zeitschriften. Sie besitzt keine Urheberrechte an den Zeitschriften und ist nicht verantwortlich für deren Inhalte. Die Rechte liegen in der Regel bei den Herausgebern beziehungsweise den externen Rechteinhabern. [Siehe Rechtliche Hinweise.](#)

Conditions d'utilisation

L'ETH Library est le fournisseur des revues numérisées. Elle ne détient aucun droit d'auteur sur les revues et n'est pas responsable de leur contenu. En règle générale, les droits sont détenus par les éditeurs ou les détenteurs de droits externes. [Voir Informations légales.](#)

Terms of use

The ETH Library is the provider of the digitised journals. It does not own any copyrights to the journals and is not responsible for their content. The rights usually lie with the publishers or the external rights holders. [See Legal notice.](#)

Download PDF: 18.03.2025

ETH-Bibliothek Zürich, E-Periodica, <https://www.e-periodica.ch>

Minenwerfer. Aufg. 3.

Nächtliche Vorbereitung für einen Angriff bei Morgengrauen.**Allgemeine Lage:**

Bat. Y ist um Mitternacht im Walde südlich A.-Dorf in Bereitstellung zum Angriff.

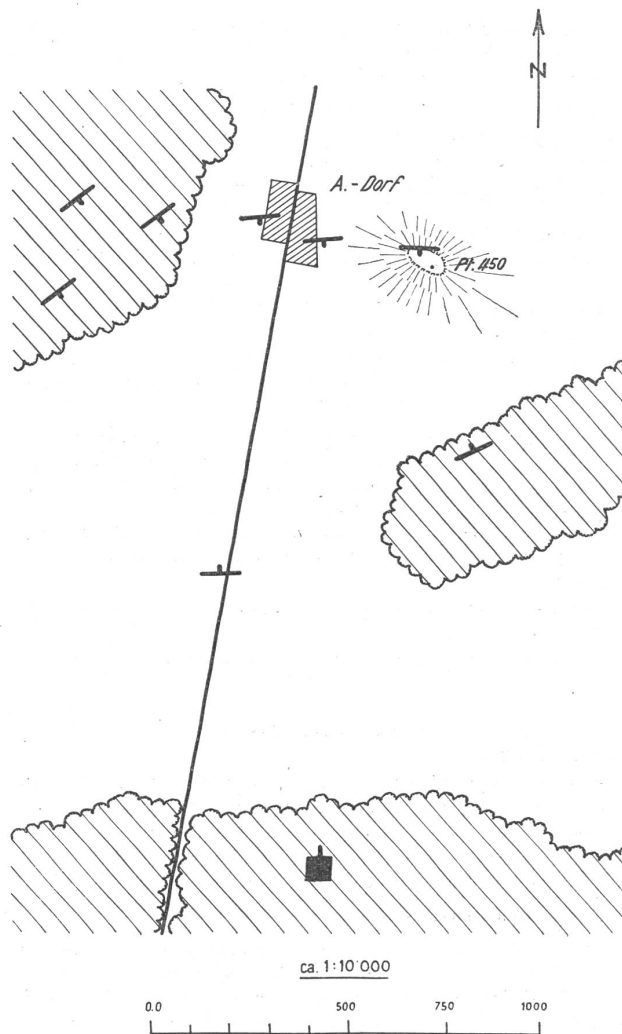
Die soeben zurückgekehrte Patrouille meldet feindliche Streitkräfte auf P. 450, im Walde westlich A.-Dorf und in A.-Dorf.

Der Bat.-Kdt. entscheidet sich zum Angriff bei Morgengrauen. Er gibt dem 1. Minenwerfer-Zugführer den Befehl, in der Nacht seine Minenwerfer auf P. 450, sowie auf A.-Dorf-Südrand einzurichten.

Was befiehlt der Zugf. des 1. Mw.-Zuges?

Welches Richtverfahren wählen Sie, und mit welchen Hilfsmitteln ist es Ihnen möglich, die Minenwerfer bei Nacht einzurichten?

Wo wählen Sie Ihre Stellungen und die Beobachtung?

**1^o Thèmes généraux**

- 1^o Elaboration d'un programme de travail pour l'activité ultérieure de l'Association suisse de Sous-officiers, en tenant compte des expériences du service actif actuel.
- 2^o Exposé sur l'éducation et l'instruction future du sous-officier de l'Armée suisse.
- 3^o L'organisation administrative d'une société de sous-officiers, y compris le recrutement des membres.

2^o Thèmes libres**3^o Tâches tactiques****Tâches pour Sof.Fus.****1. L'attaque dans le cbt. de rencontre.****Situation générale:**

Notre compagnie marche comme cp. d'avg. sur la route de A à B. Le terrain est entièrement découvert. A droite, nous avons des pâturages assez en pente, sans aucun arbre. A gauche s'étend une plaine découverte assez vaste en partie marécageuse en partie prairie avec très peu d'arbres fruitiers. Tout près du tournant de route «C», la route passe sur un ruisseau peu profond,

large de 3 mètres. La route allant à B est légèrement surélevée par rapport au terrain de gauche.

De l'adversaire, nous savons qu'il marche sur B.

Situation particulière: 1. La patrouille de pointe, conduite par un sergent, est à C.

Tâche 1: Quels ordres le sous-officier a-t-il donné préalablement?

Tâche 2: Comment la patrouille de pointe est-elle organisée? (Croquis.)

Situation particulière: 2. La patrouille de pointe est à D. L'ordre «halte» arrive du Cdt. de cp.

Tâche 1: Quels ordres le sof. donne-t-il?

Tâche 2: Que fait la patrouille de pointe? (Croquis.)

Situation particulière: 3. Après 10 minutes, la patrouille de pointe continue sa marche. En arrivant vers B, 5 motocyclettes ennemies avec side-cars arrivent brusquement à leur rencontre. Près de F les motocyclistes sautent de leur machine et disparaissent derrière la maison. Un homme revient immédiatement vers une motocyclette et sort du side-car un Fm., avec lequel il disparaît derrière la maison.

Tâche 1: Comment le chef de la patrouille de pointe juge-t-il la situation?

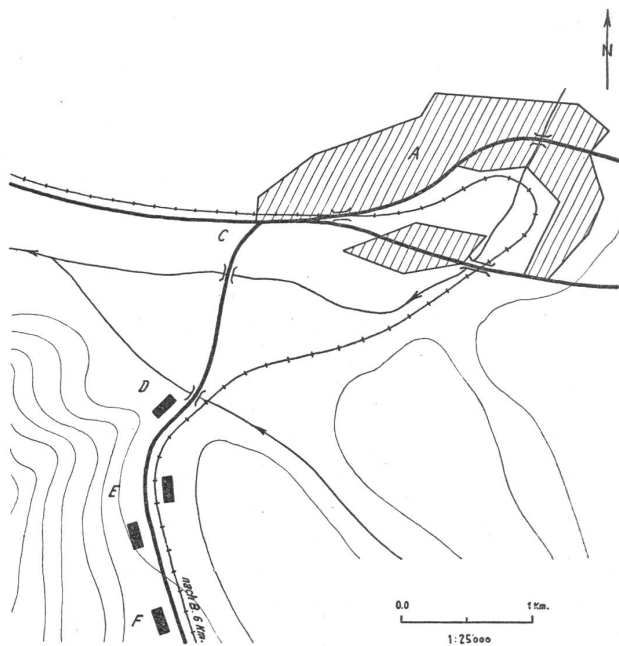
Tâche 2: Que commande le sof.?

Tâche 3: Que fait la patr. de pointe et comment exécute-t-elle cet ordre?

Situation spéciale: 4. L'ennemi place un Fm. à un coin de la maison et ouvre le feu. Mais son tir porte trop haut. Un homme est couché près du coin de la maison sous un buisson de sureau et écrit ou dessine. Soudain, il bardit derrière la maison et, un instant après, essaie de mettre une motocyclette en marche. Ses efforts étant vains, l'homme disparaît encore une fois derrière la maison.

Tâche 1: Quelles sont vos réflexions comme chef de la patr. de pointe?

Tâche 2: Quels sont les ordres que vous donnez maintenant?



2. Les avant-postes.

Situation générale:

Rouge est à A, à 50 km. de G, engagé dans des combats de frontière. Bleu y est dans une situation très fâcheuse mais tient encore. La mobilisation terminée, notre bat. marche sur D avec l'ordre d'établir une nouvelle position de barrage au défilé de D. Une compagnie doit être engagée pour la défense du village de G.

Le cpl. Schreiber reçoit du cdt. de cp. l'ordre suivant:

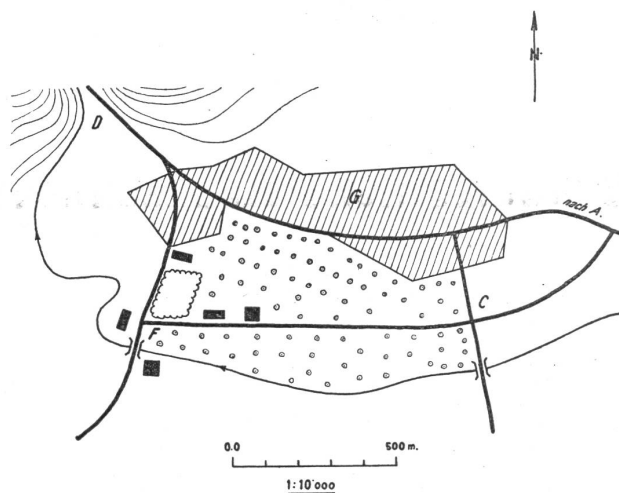
«Je tiens le village G avec ma compagnie. Avec votre groupe (1 Fm. + 12 hommes), vous barrez la bifurcation à F et assurez le terrain d'alentour depuis le fossé jusqu'au village. Le feu de votre Fm. doit barrer la route allant à C. Un poste de sof. se trouve au croisement de routes de C.

Tâche 1: Comment le cpl. Schreiber juge-t-il la situation?

Tâche 2: Quelle est la teneur des ordres donnés à son groupe? Comment s'effectue la collaboration avec le poste de sof.?

Tâche 3: Quels sont les travaux qu'il doit exécuter et dans quel ordre?

Le terrain est plat; contre C il y a d'épais vergers qui barrent la vue. Le fossé est profondément encaissé avec un niveau d'eau bas.



3. La défense.

Situation générale:

Par une attaque de surprise, Rouge a réussi à s'emparer de A. D'après les déclarations de prisonniers, Rouge a l'intention d'avancer le long de la rivière vers B.

Le cdt. de cp. donne l'ordre suivant:

1° Je tiens dans les positions préparées d'avance pour empêcher toute nouvelle traversée de la rivière par l'ennemi, et sa progression vers B.

La 1^{re} section tient dans l'espace Z—F,

la 2^{me} » » » » E—K,

la 3^{me} » » » » W—G—H—D.

2° La section du sgt. Meier (section de commandement), jusqu'ici au point d'appui W, se déplace immédiatement à couvert, vers l'espace E—K, et s'y tient prête à surprendre par son feu l'ennemi qui attaquerait vers Z, ou à être engagée au point K, en prolongation de notre flanc droit S.

3° P.C. à W.

Le Cdt. de cp.

1° Comment le sgt. juge-t-il la situation?

2° Quels sont ses ordres?

3° Quelle en est l'exécution?

